

2026

AVALIAÇÃO DIAGNÓSTICA

AVALIAÇÃO DIAGNÓSTICA

CADERNO

C0301



2224C0301

LÍNGUA PORTUGUESA E MATEMÁTICA
3º ano do Ensino Fundamental - Anos Iniciais

- Nome do(a) estudante

- Turma

	A	B	C	D
01	<input type="radio"/>	<input type="radio"/>	<input type="radio"/>	<input type="radio"/>
02	<input type="radio"/>	<input type="radio"/>	<input type="radio"/>	<input type="radio"/>
03	<input type="radio"/>	<input type="radio"/>	<input type="radio"/>	<input type="radio"/>
04	<input type="radio"/>	<input type="radio"/>	<input type="radio"/>	<input type="radio"/>
05	<input type="radio"/>	<input type="radio"/>	<input type="radio"/>	<input type="radio"/>

	A	B	C	D
06	<input type="radio"/>	<input type="radio"/>	<input type="radio"/>	<input type="radio"/>
07	<input type="radio"/>	<input type="radio"/>	<input type="radio"/>	<input type="radio"/>
08	<input type="radio"/>	<input type="radio"/>	<input type="radio"/>	<input type="radio"/>
09	<input type="radio"/>	<input type="radio"/>	<input type="radio"/>	<input type="radio"/>
10	<input type="radio"/>	<input type="radio"/>	<input type="radio"/>	<input type="radio"/>

9481454375



GOVERNO DO ESTADO
DO ESPÍRITO SANTO
Secretaria da Educação



EXEMPLO

Vamos fazer juntos um exemplo de uma atividade.

VEJA A FIGURA ABAIXO.



QUAL É O NOME DESSA FIGURA?

CASA

FADA

GATA

VACA

ATENÇÃO!

Agora, você vai responder a questões de Língua Portuguesa.



Questão 01

P00172825

Veja a figura abaixo.



Qual é a figura que tem o nome com a primeira sílaba (pedaço) igual à do nome da figura que você viu?



Leia o texto abaixo.

Corrida de bambolê

Você vai precisar de:


- Bambolês
1. Os participantes põem um bambolê na cintura e se posicionam atrás da linha de largada. Depois contam até três e saem girando o bambolê, equilibrando-o na cintura, até a outra linha.
 2. Todos devem pisar na segunda linha e voltar rodando o bambolê no chão com as mãos, como se fosse uma roda, até a linha de partida. Quem chegar primeiro, vence.

PREPARE-SE para a largada. *Recreio*, n. 1195, p. 8, 10 out. 2025. Disponível em: <https://meulink.fit/UKWYIMthFThZpgf>. Acesso em: 9 dez. 2025. Fragmento. (P00172830_SUP)

Esse texto serve para

- anunciar um produto.
- contar uma história.
- ensinar uma brincadeira.
- fazer um convite.

Leia o texto abaixo.



Disponível em: <https://meulink.fit/mpZJpafBeHMGXQE>. Acesso em: 12 dez. 2025. (P00172833_SUP)

De acordo com esse texto, em qual dia vai acontecer o evento?

10.

12.

16.

22.

Leia o texto abaixo.

Um rato diferente

No porão de um castelo abandonado, vivia o rato Zezo.

Diferentemente dos outros ratos, Zezo não gostava de queijo, mas adorava cenoura. Seus amigos perguntavam se ele era mesmo um rato ou um coelho, mas Zezo nem se importava.

Certo dia, o ratinho fez um delicioso bolo de cenoura, e o cheiro chamou a atenção de seus amigos, que apareceram rapidamente.

Depois de provarem um pedaço do bolo de Zezo, todos os ratos passaram a adorar cenoura e fizeram até uma plantação delas no jardim do castelo.

UM RATO diferente. In: *180 histórias para divertir*. Jandira: Ciranda Cultural, 2021. p. 49. Adaptado para fins didáticos. (P00189724_SUP)


Onde acontece essa história?

- Em um castelo.
- Em um restaurante.
- Em uma fazenda.
- Em uma horta.

Questão 05

P00178726

Leia o texto abaixo.



EVANGELISTA. Tirinhas da Danny, 2011. Disponível em: <https://meulink.fit/bciGTPaALVtcOKq>. Acesso em: 5 nov. 2025. (P00178726_SUP)

Nesse texto, o menino começou a chorar porque

- não gostou do sabor do sorvete.
- não queria ir embora para casa.
- o banco estava desconfortável.
- o sorvete dele caiu no chão.

EXEMPLO

Vamos fazer juntos um exemplo de uma atividade.

OBSERVE ABAIXO A CONTA QUE A PROFESSORA ANA ESCREVEU NO QUADRO.

$$15 + 4$$

QUAL É O RESULTADO DESSA CONTA?

11

18

19

55

ATENÇÃO!

Agora, você vai responder a questões de Matemática.


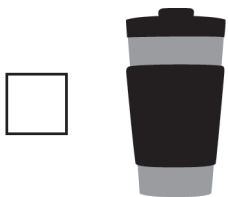
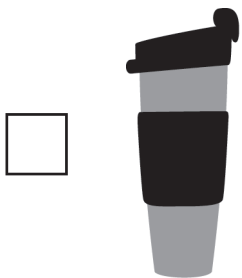
Questão 06

M02141717

Observe abaixo os copos que Nádia comprou.



Qual desses copos é o mais grosso?



Questão 07

M00037527

Observe, no quadro abaixo, a sequência numérica que segue um padrão.

$$47 - 57 - \underline{\quad} - 77 - 87$$

Qual é o número que completa essa sequência?

 97. 76. 67. 58.

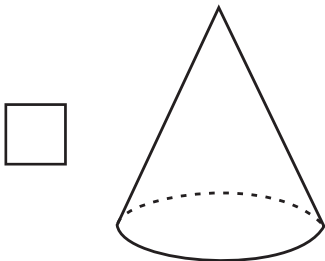
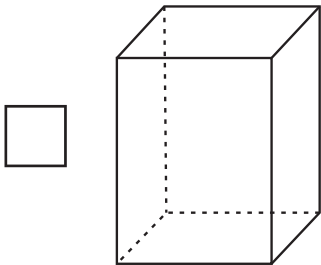
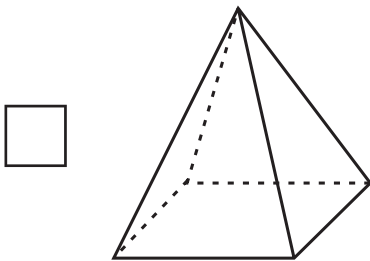
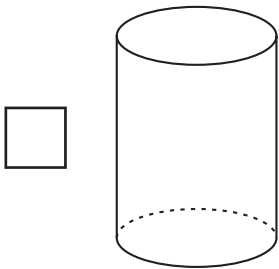
Questão 08

M00121480

Observe abaixo o porta-lápis que fica na mesa do escritório de Maria.




A forma desse porta-lápis lembra qual sólido geométrico?



Questão 09

M00158395

Observe abaixo a quantidade de bolas de gude que cada amigo possui.



Qual é a ordem dos amigos do que possui a menor quantidade de bolas de gude para o que possui a maior quantidade de bolas de gude?

- TEO – HUGO – IVO – CAIO .
- TEO – HUGO – CAIO – IVO.
- IVO – CAIO – HUGO – TEO.
- CAIO – HUGO – IVO – TEO.

Questão 10

M00146734

Observe, no quadro abaixo, uma das decomposições de um número.

$$100 + 90 + 3$$

Essa é uma das decomposições de qual número?

193.

391.

1 930.

100 903.